



4. Maugli egy hosszú liánból mászókat készít a kismajmoknak. Előbb levágja a lián felét és még egy fél métert, majd a maradék felét és még egy fél métert, majd ismét a maradék felét, és még egy fél métert. Ezek után 8 méter lián marad.

Hány méter hosszú volt a lián eredetileg? .....



5. A zsebpénzem felét könyvre, negyedét játékra, a nyolcadrészét írószerekre költöttem, így maradt még 200 forintom.

a) Hány forint volt a zsebpénzem? .....Ft

b) Mennyit költöttem könyvre, játékra, illetve írószerekre?

Könyv: .....Ft    Játék: .....Ft    Írószer: .....Ft


Rajz:



VEGYES FELADATOK

1. A 1, 5, 6 számjegyekből több olyan háromjegyű számot képezhetünk, melyeknek minden számjegye különböző.

a) Sorold fel az összes ilyen számot!

Fejezd be a következő mondatokat úgy, hogy a fenti számokra igaz állításokat kapj!

b) Mindegyik szám .....

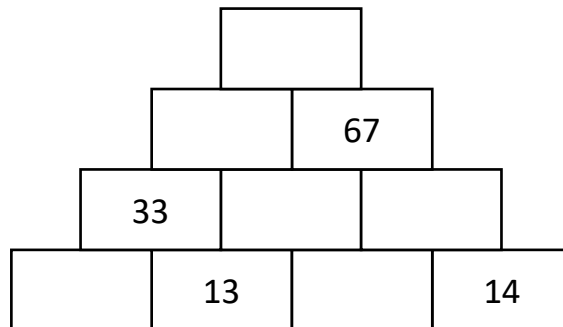
c) Nem mindegyik szám .....

d) Van közöttük .....

e) Egyik sem .....

2. A számpiramis minden téglalapjában az alatta lévő két szám összege szerepel.

Töltsd ki az üres négyzeteket!



3. Mely számok írhatók a pontok helyére?

fél óra = ..... perc

3 negyed óra = ..... perc

1 negyed óra = ..... perc

7 negyed óra = ..... perc

1 tized óra = ..... perc

7 tized óra = ..... perc

1 harmad óra = ..... perc

3 harmad óra = ..... perc

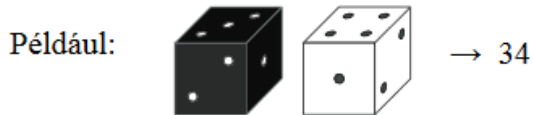
5 hatod óra = ..... perc

3 ketted óra = ..... perc

4. A középső szám annyival nagyobb az elsőnél, amennyivel kisebb az utolsónál.

564 < ..... < 596

5. Egy fekete és egy fehér dobókockával egyszerre dobtunk. A felső lapokon látható pöttyök számát felhasználva kétjegyű számokat képeztünk. A fekete színű kockával a tízesek, a fehér színű kockával az egyesek helyén álló számjegyet határoztuk meg.



A dobások után az alábbi számokat kaptuk:

**55, 54, 12, 13, 16, 45, 62, 41, 65, 33.**

- a) Gyűjtsd össze, milyen színű kockával melyik számjegyet hányszor dobtuk!

Folytasd a táblázat kitöltését!

A dobott számjegyek:	1	2	3	4	5	6
a fekete kockával	3					
a fehér kockával	1					

- b) Igaz-e, hogy a kapott számok között több a 40-nél kisebb, mint a 40-nél nagyobb?

Karikázd be a helyes választ! **IGAZ** **HAMIS**

6. Virágokat ültetünk 4 ágyásba: tulipánt (T), jácintot (J), nárciszt (N) és krókusz (K).

Hányféleképpen ültethetjük el a virágokat, ha tulipánt nem szeretnénk a krókusz mellé ültetni, illetve vagy jácintot, vagy tulipánt ültetünk az első ágyásba.

--	--	--	--

1. 2. 3. 4.

--	--	--	--

1. 2. 3. 4.

--	--	--	--

1. 2. 3. 4.

--	--	--	--

1. 2. 3. 4.

--	--	--	--

1. 2. 3. 4.

--	--	--	--

1. 2. 3. 4.

--	--	--	--

1. 2. 3. 4.

--	--	--	--

1. 2. 3. 4.